



# केन्द्रीय रिजर्व पुलिस बल CENTRAL RESERVE POLICE FORCE

Test Date	27/02/2023
Test Time	12:30 PM - 02:00 PM
Subject	Head Constable Ministerial

Section : Hindi Language

Q.1 सर्वोचित शब्द से वाक्य पूर्ण करें।

ओजगुण के कारण किसी रचना में \_\_\_\_\_ एवं उमंग का संचार करने की क्षमता आती है।

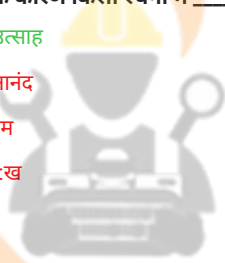
Ans

A. उत्साह

B. आनंद

C. प्रेम

D. दुःख



INDIA

Question ID : 630680179149

Status : Answered

Chosen Option : A

Q.2 निम्नलिखित में से कौन-सा विलोम-युग्म असुमेलित है?

Ans

A. सुगंध - कुगंध

B. सुपथ - कुपथ

C. सुपाच्य - कुपाच्य

D. सुफल - कुफल

Question ID : 630680179140

Status : Not Answered

Chosen Option : --

Q.3 दिए गए वाक्य का कौन-सा शब्द वर्तनी की दृष्टि से अशुद्ध है?

इस विश्व प्रसिद्ध इमारत का ऐतिहासिक महत्त्व है।

Ans  A. ऐतिहासिक

B. इमारत

C. महत्त्व

D. प्रसिद्ध

Question ID : 630680179141

Status : Answered

Chosen Option : A

Q.4 उचित समानार्थक शब्द से दिया गया वाक्य पूर्ण करें।

अभी तक हिंदी के अनेक शब्दों की वर्तनी \_\_\_\_\_ नहीं है।

Ans  A. स्थित

B. सटीक

C. स्थिर

D. शाश्वत

Question ID : 630680179139

Status : Answered

Chosen Option : B

Q.5 वाक्य-विन्यास की दृष्टि से शुद्ध वाक्य का चयन करें।

Ans  A. नाटकों में संस्कृत नाटकीय कार्य की अवस्था को कार्यावस्था कहते हैं।

B. कार्यावस्था कहते हैं नाटकीय कार्य की अवस्था को संस्कृत नाटकों में।

C. नाटकीय कार्य की अवस्था को कार्यावस्था कहते हैं संस्कृत नाटकों में।

D. संस्कृत नाटकों में नाटकीय कार्य की अवस्था को कार्यावस्था कहते हैं।

INDIA

Question ID : 630680179152

Status : Answered

Chosen Option : A

Q.6 निम्नलिखित वाक्यों में से हेतुहेतुमद्भूत काल का उदाहरण है:

Ans  A. डॉक्टर के मना करने के बावजूद पिताजी ने चप्पल पहन ली।

B. मेरी घड़ी बंद हो गई है आपकी घड़ी में क्या बजा है?

C. कृश को नौकरी मिल गयी होती अगर उसने प्रतियोगी परीक्षा उत्तीर्ण कर ली होती।

D. हम बाज़ार गए थे और आवश्यक सामानों की खरीदी की।

Question ID : 630680179156

Status : Answered

Chosen Option : C

Q.7 शुद्ध मुहावरे का चयन करें।

- Ans  A. छाती पर मूँग दलना  
 B. छाती पर अरहर दलना  
 C. छाती पर उर्द दलना  
 D. छाती मसूर दलना

Question ID : 630680179144  
Status : Answered  
Chosen Option : A

Q.8 निम्नलिखित वाक्यों में से सामान्य वर्तमान काल का उदाहरण है:

- Ans  A. वह प्रतिदिन रात को देर से घर लौटता है।  
 B. अभी अमरीका में दिन हो रहा होगा।  
 C. वे सभी कारें आज शाम में नीलाम हो जायेंगी।  
 D. सुशील जी तन-मन से भूगोल पढ़ा रहे हैं।

Question ID : 630680179155  
Status : Answered  
Chosen Option : A

Q.9 सर्वोचित शब्द से वाक्य पूर्ण करें।

काव्य रचना के जिस गुण से हृदय \_\_\_\_\_ से द्रवीभूत हो जाये उसे माधुर्य गुण कहते हैं।

- Ans  A. आनंद  
 B. करुणा  
 C. क्षोभ  
 D. शोक



INDIA

Question ID : 630680179150  
Status : Answered  
Chosen Option : B

Q.10 वाक्य-विन्यास की दृष्टि से शुद्ध वाक्य का चयन करें।

- Ans  A. कहा गया है उत्तम काव्य व्यंजना शक्ति से रस प्राप्त होने वाले काव्य को।  
 B. रस प्राप्त होने वाले व्यंजना शक्ति से काव्य को उत्तम काव्य कहा गया है।  
 C. उत्तम काव्य कहा गया है व्यंजना शक्ति से रस प्राप्त होने वाले काव्य को।  
 D. व्यंजना शक्ति से रस प्राप्त होने वाले काव्य को उत्तम काव्य कहा गया है।

Question ID : 630680179148  
Status : Answered  
Chosen Option : D

Q.11 वाक्य-विन्यास की दृष्टि से शुद्ध वाक्य का चयन करें।

- Ans  A. भारतीय विद्वानों में मतभेद है दोषों की विषय में संख्या के।  
 B. दोषों की संख्या के विषय में मतभेद है विद्वानों में भारतीय।  
 C. दोषों की संख्या के विषय में भारतीय विद्वानों में मतभेद है।  
 D. विद्वानों में मतभेद है भारतीय दोषों की संख्या के विषय में।

Question ID : 630680179147  
Status : Answered  
Chosen Option : C

Q.12 'वह जो दूसरों द्वारा लगाये गये अभियोग का उत्तर दे' वाक्यांश के लिए एक शब्द होगा:

- Ans  A. प्रतियोगी  
 B. प्रतिवादी  
 C. प्रतिभागी  
 D. प्रतिपक्षी

Question ID : 630680179154  
Status : Answered  
Chosen Option : A

Q.13 उचित कारकचिह्न से वाक्य पूर्ण करें।

गुरू \_\_\_\_\_ शिष्यों को शिक्षा दी।

- Ans  A. को  
 B. द्वारा  
 C. से  
 D. ने



INDIA

Question ID : 630680179157  
Status : Answered  
Chosen Option : D

Q.14 वाक्य-विन्यास की दृष्टि से शुद्ध वाक्य का चयन करें।

- Ans  A. होते हैं शब्द के दस और अर्थ के दस गुण आचार्य वामन के अनुसार।  
 B. आचार्य वामन के अनुसार शब्द के दस और अर्थ के दस गुण होते हैं।  
 C. और होते हैं शब्द के दस अर्थ के दस गुण आचार्य वामन के अनुसार।  
 D. शब्द के दस और अर्थ के दस गुण होते हैं अनुसार आचार्य वामन के।

Question ID : 630680179151  
Status : Answered  
Chosen Option : B



Q.15 निम्नलिखित में से 'अरण्य' का पर्याय है:

- Ans  A. पहाड़  
 B. नगर  
 C. मरुस्थल  
 D. कानन

Question ID : 630680179138  
Status : Answered  
Chosen Option : D

Q.16 शुद्ध मुहावरे का चयन करें।

- Ans  A. लहंगा चोली का साथ  
 B. चोली चुनरी का साथ  
 C. चोली आँचल का साथ  
 D. चोली दामन का साथ

Question ID : 630680179143  
Status : Answered  
Chosen Option : D

Q.17 'जिसे पानी या किसी और वस्तु को पीने की प्यास हो' वाक्यांश के लिए एक शब्द होगा:

- Ans  A. प्यास  
 B. पियाऊ  
 C. प्युष  
 D. पिपासु



INDIA

Question ID : 630680179153  
Status : Answered  
Chosen Option : D

Q.18 दिए गए वाक्य का कौन-सा शब्द वर्तनी की दृष्टि से अशुद्ध है?

आज रसायनशास्त्र के अध्यापक ने कक्षा के विद्यार्थियों को फिटकरी डालकर पानी साफ करने की पद्धति बताई।

- Ans  A. फिटकरी  
 B. अध्यापक  
 C. विद्यार्थियों  
 D. पद्धति

Question ID : 630680179142  
Status : Answered  
Chosen Option : D

Q.19 शुद्ध लोकोक्ति का चयन करें।

- Ans  A. आठ कनौजिया नौ चूल्हे  
 B. आठ कनौजिया सात चूल्हे  
 C. नौ कनौजिया नौ चूल्हे  
 D. आठ कनौजिया दस चूल्हे

Question ID : 630680179145

Status : Not Answered

Chosen Option : --

Q.20 शुद्ध लोकोक्ति का चयन करें।

- Ans  A. गधा धोने से घोड़ा नहीं हो जाता  
 B. गधा धोने से गाय नहीं हो जाता  
 C. गधा धोने से बछड़ा नहीं हो जाता  
 D. गधा धोने से बैल नहीं हो जाता

Question ID : 630680179146

Status : Answered

Chosen Option : A

### Comprehension:

निम्नलिखित गद्यांश के आधार पर दिए गए प्रश्नों के उत्तर दीजिए।

पत्र-साहित्य का महत्त्व इसलिए है कि उसमें पत्र-लेखक अपेक्षाकृत मुक्त होकर अपने को व्यक्त करता है। पत्रों को दो कोटि में बाँट सकते हैं। एक तो निजी पत्र, जो प्रकाशन के उद्देश्य से नहीं लिखे जाते और दूसरे ऐसे पत्र, जो पत्र होते हुए भी वास्तव में साहित्यिक कृति के रूप में लिखे तथा प्रकाशित किये जाते हैं। इनकी सुदृढ़ परंपरा की शुरुआत बालमुकुंद गुप्त द्वारा शिवशंभु के छद्म नाम से लिखे गये 'चिट्ठे' और 'भारत मित्र' में प्रकाशित पत्रों की लोकप्रियता से होती है। तत्कालीन वायसराय लार्ड कर्जन के नाम लिखे गये 'शिवशंभु के चिट्ठों' ने तो उस समय के पाठकों में तहलका मचा दिया था। इन चिट्ठों में देश के सर्वोच्च शासक, वायसराय की बड़ी तीव्र आलोचना की गयी थी। वैयक्तिकता पत्र-साहित्य की मूलभूत विशेषता है। पत्र, वस्तुस्थिति के सूचक, ज्ञातव्य के प्रकाशक और अभिप्रेत के वाहक भी होते हैं। महापुरुषों की प्रामाणिक जीवनियों के लेखन में भी उनके जीवन, युग और विचारों पर प्रकाश डालने में सहायक पत्रों को उद्धृत किया जाता है। पिछले तीस वर्षों में कुछ विशिष्ट साहित्यकारों के महत्त्वपूर्ण पत्र-संग्रह प्रकाशित हुए हैं। इनमें चिट्ठी पत्री, दो खंड, (1962 ई.) सं. अमृतराय, (प्रेमचंद के पत्रों का संग्रह), फाइल और प्रोफाइल (1968 ई.) (साहित्यकारों के 'उग्र' के नाम पत्र) और निराला के पत्र (1971 ई.) सं. जानकी वल्लभ शास्त्री आदि पत्र-संग्रह महत्त्वपूर्ण हैं।

SubQuestion No : 21

Q.21 बालमुकुंद गुप्त द्वारा शिवशंभु के छद्म नाम से लिखे गए चिट्ठे का मूल स्वर क्या था?

- Ans  A. तत्कालीन साहित्यिक बंधुओं पर व्यंग्य करना।  
 B. तत्कालीन वायसराय की कटु आलोचना करना।  
 C. अपनी व्यक्तिगत समस्याओं का उद्घाटन करना।  
 D. महापुरुषों के जीवन, युग और विचारों पर प्रकाश डालना।

Question ID : 630680179162

Status : Answered

Chosen Option : B

### Comprehension:

निम्नलिखित गद्यांश के आधार पर दिए गए प्रश्नों के उत्तर दीजिए।

पत्र-साहित्य का महत्त्व इसलिए है कि उसमें पत्र-लेखक अपेक्षाकृत मुक्त होकर अपने को व्यक्त करता है। पत्रों को दो कोटि में बाँट सकते हैं। एक तो निजी पत्र, जो प्रकाशन के उद्देश्य से नहीं लिखे जाते और दूसरे ऐसे पत्र, जो पत्र होते हुए भी वास्तव में साहित्यिक कृति के रूप में लिखे तथा प्रकाशित किये जाते हैं। इनकी सुदृढ़ परंपरा की शुरुआत बालमुकुंद गुप्त द्वारा शिवशंभु के छद्म नाम से लिखे गये 'चिट्ठे' और 'भारत मित्र' में प्रकाशित पत्रों की लोकप्रियता से होती है। तत्कालीन वायसराय लार्ड कर्जन के नाम लिखे गये 'शिवशंभु के चिट्ठों' ने तो उस समय के पाठकों में तहलका मचा दिया था। इन चिट्ठों में देश के सर्वोच्च शासक, वायसराय की बड़ी तीव्र आलोचना की गयी थी। वैयक्तिकता पत्र-साहित्य की मूलभूत विशेषता है। पत्र, वस्तुस्थिति के सूचक, ज्ञातव्य के प्रकाशक और अभिप्रेत के वाहक भी होते हैं। महापुरुषों की प्रामाणिक जीवनीयों के लेखन में भी उनके जीवन, युग और विचारों पर प्रकाश डालने में सहायक पत्रों को उद्धृत किया जाता है। पिछले तीस वर्षों में कुछ विशिष्ट साहित्यकारों के महत्त्वपूर्ण पत्र-संग्रह प्रकाशित हुए हैं। इनमें चिट्ठी पत्री, दो खंड, (1962 ई.) सं. अमृतराय, (प्रेमचंद के पत्रों का संग्रह), फाइल और प्रोफाइल (1968 ई.) (साहित्यकारों के 'उग्र' के नाम पत्र) और निराला के पत्र (1971 ई.) सं. जानकी वल्लभ शास्त्री आदि पत्र-संग्रह महत्त्वपूर्ण हैं।

### SubQuestion No : 22

Q.22 गद्यांश के अनुसार पत्र-साहित्य का महत्त्व किस कारण से अन्य विधाओं की अपेक्षा अधिक है?

- Ans  A. पत्र के माध्यम से लेखक के जीवन की कठिनाईयों और मानसिक द्वंद्व को समझा जा सकता है।
- B. पत्र लेखक पत्र-लेखन में अपेक्षाकृत मुक्त होकर अपने को व्यक्त करता है।
- C. पत्र लेखक अपने पत्रों में नाटकीयता और काव्यात्मकता का चमत्कार दिखाता है।
- D. पत्र लेखक पत्र में अपनी कल्पना शक्ति को खुलकर प्रस्तुत कर सकता है।

Question ID : 630680179160

Status : Answered

Chosen Option : B

### Comprehension:

निम्नलिखित गद्यांश के आधार पर दिए गए प्रश्नों के उत्तर दीजिए।

पत्र-साहित्य का महत्त्व इसलिए है कि उसमें पत्र-लेखक अपेक्षाकृत मुक्त होकर अपने को व्यक्त करता है। पत्रों को दो कोटि में बाँट सकते हैं। एक तो निजी पत्र, जो प्रकाशन के उद्देश्य से नहीं लिखे जाते और दूसरे ऐसे पत्र, जो पत्र होते हुए भी वास्तव में साहित्यिक कृति के रूप में लिखे तथा प्रकाशित किये जाते हैं। इनकी सुदृढ़ परंपरा की शुरुआत बालमुकुंद गुप्त द्वारा शिवशंभु के छद्म नाम से लिखे गये 'चिट्ठे' और 'भारत मित्र' में प्रकाशित पत्रों की लोकप्रियता से होती है। तत्कालीन वायसराय लार्ड कर्जन के नाम लिखे गये 'शिवशंभु के चिट्ठों' ने तो उस समय के पाठकों में तहलका मचा दिया था। इन चिट्ठों में देश के सर्वोच्च शासक, वायसराय की बड़ी तीव्र आलोचना की गयी थी। वैयक्तिकता पत्र-साहित्य की मूलभूत विशेषता है। पत्र, वस्तुस्थिति के सूचक, ज्ञातव्य के प्रकाशक और अभिप्रेत के वाहक भी होते हैं। महापुरुषों की प्रामाणिक जीवनीयों के लेखन में भी उनके जीवन, युग और विचारों पर प्रकाश डालने में सहायक पत्रों को उद्धृत किया जाता है। पिछले तीस वर्षों में कुछ विशिष्ट साहित्यकारों के महत्त्वपूर्ण पत्र-संग्रह प्रकाशित हुए हैं। इनमें चिट्ठी पत्री, दो खंड, (1962 ई.) सं. अमृतराय, (प्रेमचंद के पत्रों का संग्रह), फाइल और प्रोफाइल (1968 ई.) (साहित्यकारों के 'उग्र' के नाम पत्र) और निराला के पत्र (1971 ई.) सं. जानकी वल्लभ शास्त्री आदि पत्र-संग्रह महत्त्वपूर्ण हैं।

### SubQuestion No : 23

Q.23 पत्र साहित्य के संदर्भ में क्या असत्य है?

- Ans  A. पत्र लेखक के अभिप्रेत को वहन करने में अक्षम होते हैं।
- B. वैयक्तिकता पत्र-साहित्य की मूलभूत विशेषता है।
- C. पत्र ज्ञातव्य के प्रकाश होते हैं।
- D. पत्र वस्तुस्थिति के सूचक होते हैं।

Question ID : 630680179163

Status : Answered

Chosen Option : A

**Comprehension:**

निम्नलिखित गद्यांश के आधार पर दिए गए प्रश्नों के उत्तर दीजिए।

पत्र-साहित्य का महत्त्व इसलिए है कि उसमें पत्र-लेखक अपेक्षाकृत मुक्त होकर अपने को व्यक्त करता है। पत्रों को दो कोटि में बाँट सकते हैं। एक तो निजी पत्र, जो प्रकाशन के उद्देश्य से नहीं लिखे जाते और दूसरे ऐसे पत्र, जो पत्र होते हुए भी वास्तव में साहित्यिक कृति के रूप में लिखे तथा प्रकाशित किये जाते हैं। इनकी सुदृढ़ परंपरा की शुरुआत बालमुकुंद गुप्त द्वारा शिवशंभु के छद्म नाम से लिखे गये 'चिट्ठे' और 'भारत मित्र' में प्रकाशित पत्रों की लोकप्रियता से होती है। तत्कालीन वायसराय लार्ड कर्जन के नाम लिखे गये 'शिवशंभु के चिट्ठों' ने तो उस समय के पाठकों में तहलका मचा दिया था। इन चिट्ठों में देश के सर्वोच्च शासक, वायसराय की बड़ी तीव्र आलोचना की गयी थी। वैयक्तिकता पत्र-साहित्य की मूलभूत विशेषता है। पत्र, वस्तुस्थिति के सूचक, ज्ञातव्य के प्रकाशक और अभिप्रेत के वाहक भी होते हैं। महापुरुषों की प्रामाणिक जीवनीयों के लेखन में भी उनके जीवन, युग और विचारों पर प्रकाश डालने में सहायक पत्रों को उद्धृत किया जाता है। पिछले तीस वर्षों में कुछ विशिष्ट साहित्यकारों के महत्त्वपूर्ण पत्र-संग्रह प्रकाशित हुए हैं। इनमें चिट्ठी पत्री, दो खंड, (1962 ई.) सं. अमृतराय, (प्रेमचंद के पत्रों का संग्रह), फाइल और प्रोफाइल (1968 ई.) (साहित्यकारों के 'उग्र' के नाम पत्र) और निराला के पत्र (1971 ई.) सं. जानकी वल्लभ शास्त्री आदि पत्र-संग्रह महत्त्वपूर्ण हैं।

**SubQuestion No : 24**

Q.24 पत्र का पर्यायवाची शब्द निम्नलिखित में से कौन-सा नहीं है?

- Ans  A. पाती  
 B. चिट्ठी  
 C. खत  
 D. पण

Question ID : 630680179159

Status : Not Answered

Chosen Option : --

**Comprehension:**

निम्नलिखित गद्यांश के आधार पर दिए गए प्रश्नों के उत्तर दीजिए।

पत्र-साहित्य का महत्त्व इसलिए है कि उसमें पत्र-लेखक अपेक्षाकृत मुक्त होकर अपने को व्यक्त करता है। पत्रों को दो कोटि में बाँट सकते हैं। एक तो निजी पत्र, जो प्रकाशन के उद्देश्य से नहीं लिखे जाते और दूसरे ऐसे पत्र, जो पत्र होते हुए भी वास्तव में साहित्यिक कृति के रूप में लिखे तथा प्रकाशित किये जाते हैं। इनकी सुदृढ़ परंपरा की शुरुआत बालमुकुंद गुप्त द्वारा शिवशंभु के छद्म नाम से लिखे गये 'चिट्ठे' और 'भारत मित्र' में प्रकाशित पत्रों की लोकप्रियता से होती है। तत्कालीन वायसराय लार्ड कर्जन के नाम लिखे गये 'शिवशंभु के चिट्ठों' ने तो उस समय के पाठकों में तहलका मचा दिया था। इन चिट्ठों में देश के सर्वोच्च शासक, वायसराय की बड़ी तीव्र आलोचना की गयी थी। वैयक्तिकता पत्र-साहित्य की मूलभूत विशेषता है। पत्र, वस्तुस्थिति के सूचक, ज्ञातव्य के प्रकाशक और अभिप्रेत के वाहक भी होते हैं। महापुरुषों की प्रामाणिक जीवनीयों के लेखन में भी उनके जीवन, युग और विचारों पर प्रकाश डालने में सहायक पत्रों को उद्धृत किया जाता है। पिछले तीस वर्षों में कुछ विशिष्ट साहित्यकारों के महत्त्वपूर्ण पत्र-संग्रह प्रकाशित हुए हैं। इनमें चिट्ठी पत्री, दो खंड, (1962 ई.) सं. अमृतराय, (प्रेमचंद के पत्रों का संग्रह), फाइल और प्रोफाइल (1968 ई.) (साहित्यकारों के 'उग्र' के नाम पत्र) और निराला के पत्र (1971 ई.) सं. जानकी वल्लभ शास्त्री आदि पत्र-संग्रह महत्त्वपूर्ण हैं।

**SubQuestion No : 25**

Q.25 'चिट्ठी पत्री' किसके पत्रों का संग्रह है?

- Ans  A. अमृतराय  
 B. प्रेमचंद  
 C. उग्र  
 D. निराला

Question ID : 630680179161

Status : Answered

Chosen Option : A

Q.1 Select the most appropriate ANTONYM of the given word.

Delicate

- Ans  A. Superior  
 B. Crude  
 C. Refined  
 D. Sharp

Question ID : 630680179164  
Status : Not Answered  
Chosen Option : --

Q.2 Select the most appropriate option to substitute the underlined segment in the given sentence. If there is no need to substitute it, select 'No substitution required'.

Money does not grow in banks, the father told his lazy son, enthrusing him to work.

- Ans  A. Money does not multiply without work  
 B. Money needs to be spent carefully  
 C. No substitution required  
 D. Money does not grow on trees

Question ID : 630680179167  
Status : Not Answered  
Chosen Option : --

Q.3 The following sentence has been divided into parts. One of them may contain a spelling error. Select the part that contains the error from the given options. If you don't find any error, mark 'No error' as your answer.

To chart your way into a better future / you must have a compass of / enduring values and principals.

- Ans  A. enduring values and principals.  
 B. No error  
 C. To chart your way into a better future  
 D. you must have a compass of

Question ID : 630680179170  
Status : Not Answered  
Chosen Option : --

Q.4 Select the most appropriate option to fill in the blanks.

The river linking project is a great challenge and an opportunity to address the water issues arising out of climate change. The long-term \_\_\_\_\_ to water scarcity lies in making the IRL project work by \_\_\_\_\_ a network of dams and canals across the length and breadth of the country.

- Ans  A. solution; building  
 B. result; erecting  
 C. explanation; assembling  
 D. key; joining

Question ID : 630680179173  
Status : Not Answered  
Chosen Option : --

Q.5 Select the most appropriate SYNONYM of the given word.

Vigilant

- Ans  A. Slack  
 B. Watchful  
 C. Equable  
 D. Subdued

Question ID : 630680179166  
Status : Not Answered  
Chosen Option : --

Q.6 Select the most appropriate option to substitute the underlined segment in the given sentence. If there is no need to substitute it, select 'No substitution required'.

After struggling to meet our deadlines for the week, we found that the longest mile is the fastest part of the journey.

- Ans  A. No substitution required  
 B. most interesting  
 C. last mile home  
 D. easiest to cover

Question ID : 630680179168  
Status : Not Answered  
Chosen Option : --

Q.7 Select the option that can be used as a one-word substitute for the underlined group of words.

From the interest he shows in it, it looks as if Nakul is going to take up the study of sounds.

- Ans  A. alchemy  
 B. acoustics  
 C. ornithology  
 D. audiology

Question ID : 630680179178  
Status : Not Answered  
Chosen Option : --

Q.8 Select the most appropriate option to fill in the blanks.

Science moves so fast in our modern era that we forget how young some scientific disciplines really are. Darwin \_\_\_\_\_ evolutionary biology just over 150 years ago. Mendel did the same for modern \_\_\_\_\_ around the same time, although his work did not blossom until several decades later.

- Ans  A. established; legacies  
 B. founded; genetics  
 C. instituted; ancestries  
 D. created; heredities

Question ID : 630680179176  
Status : Not Answered  
Chosen Option : --

Q.9 The following sentence has been divided into parts. One of them may contain a spelling error. Select the part that contains the error from the given options. If you don't find any error, mark 'No error' as your answer.

The market requires a framework of law, / but these laws must never / stifel the spirit of enterprise.

- Ans
- A. but these laws must never
  - B. No error
  - C. The market requires a framework of law
  - D. stifel the spirit of enterprise

Question ID : 630680179171  
Status : Not Answered  
Chosen Option : --

Q.10 Select the option with the most appropriate HOMONYMS to complete the sentences meaningfully.

Unfortunately for Meera, when she started playing her guitar, she could not get the \_\_\_ right.  
The curtain \_\_\_ need to be strong enough for you to pull them firmly.

- Ans
- A. chords; chords
  - B. cords; chords
  - C. chords; cords
  - D. cords; cords

Question ID : 630680179165  
Status : Not Answered  
Chosen Option : --

Q.11 Sentences of a paragraph are given below in jumbled order. Arrange the sentences in the correct order to form a meaningful and coherent paragraph.

- A. Determined to receive a higher education, she defiantly left Poland.
- B. Then, in 1891, she entered the Sorbonne, a French university, where she earned her master's degree and doctorate in Physics.
- C. Marie's great exuberance for learning prompted her to continue with her studies after high school.
- D. She became disgruntled, however, when she learned that the university in Warsaw was closed to women.

- Ans
- A. BDAC
  - B. CBAD
  - C. CDAB
  - D. ADCB

Question ID : 630680179172  
Status : Not Answered  
Chosen Option : --



Q.12 The following sentence has been divided into parts. One of them may contain an error. Select the part that contains the error from the given options. If you don't find any error, mark 'No error' as your answer.

A burning match / fallen on the ground / and left a stain on the tile.

- Ans  A. A burning match  
 B. fallen on the ground  
 C. and left a stain on the tile.  
 D. No error

Question ID : 630680179182  
Status : Not Answered  
Chosen Option : --

Q.13 Select the option that can be used as a one-word substitute for the underlined group of words.

Several persons are now trained in the use of fingers and hands to communicate and convey ideas so that they can translate news for the differently abled persons.

- Ans  A. dermatology  
 B. dactylology  
 C. braille  
 D. morse code

Question ID : 630680179179  
Status : Not Answered  
Chosen Option : --

Q.14 Select the option that can be used as a one-word substitute for the underlined group of words.

Ranjit's second child is very shy and keeps to himself.

- Ans  A. an introvert  
 B. a hermit  
 C. a recluse  
 D. an extrovert

Question ID : 630680179177  
Status : Not Answered  
Chosen Option : --

Q.15 The following sentence has been divided into parts. One of them may contain an error. Select the part that contains the error from the given options. If you don't find any error, mark 'No error' as your answer.

As long as / the nuclear arsenal existing / there is every possibility of nuclear conflagration.

- Ans  A. As long as  
 B. the nuclear arsenal existing  
 C. No error  
 D. there is every possibility of nuclear conflagration.

Question ID : 630680179183  
Status : Not Answered  
Chosen Option : --



Q.16 The following sentence has been divided into parts. One of them may contain an error. Select the part that contains the error from the given options. If you don't find any error, mark 'No error' as your answer.

Veena work / in the sales department, / doesn't she?

- Ans
- A. Veena work
  - B. No error
  - C. in the sales department
  - D. doesn't she?

Question ID : 630680179181  
Status : Not Answered  
Chosen Option : --

Q.17 Select the most appropriate option that can substitute the underlined word. If there is no change needed, select 'No substitution required'.

Neetu chopped the vegetables shortly.

- Ans
- A. finely
  - B. No substitution required
  - C. lightly
  - D. slightly

Question ID : 630680179180  
Status : Not Answered  
Chosen Option : --

Q.18 Select the most appropriate option to fill in the blanks.

Widespread improvements in the quality of life of many of the world's populations have gone hand-in-hand with increased demands on natural resources. This has led to land-use changes, which \_\_\_\_\_ terrestrial carbon stores and \_\_\_\_\_ both carbon and water cycles.

- Ans
- A. frighten; shape
  - B. threaten; affect
  - C. bully; alter
  - D. warn; involve

Question ID : 630680179174  
Status : Not Answered  
Chosen Option : --

Q.19 Select the most appropriate option to substitute the underlined segment in the given sentence. If there is no need to substitute it, select 'No substitution required'.

Some people march to a different tune simply to get attention.

- Ans
- A. march very clumsily
  - B. No substitution required
  - C. whistle while they march
  - D. cannot march without a band

Question ID : 630680179169  
Status : Not Answered  
Chosen Option : --

Q.20 Select the most appropriate option to fill in the blanks.

The morning rush hour, a homeless man stands on the curb of a busy street, hands \_\_\_\_\_ out, holding a cardboard sign with washed- out words \_\_\_\_\_ "No home and hungry, please help."

- Ans  A. struggling; speaking  
 B. stretched; saying  
 C. expanded; shouting  
 D. prolonged; written

Question ID : 630680179175

Status : Not Answered

Chosen Option : --

**Comprehension:**

Read the given passage and answer the questions that follow.

The Toda is a pastoral tribe of the Nilgiri Hills of southern India. Numbering only about 800 in the early 1960s, they were rapidly increasing in population because of improved health facilities. The Toda language is Dravidian but is the most aberrant of that linguistic stock. The Toda live in settlements of from three to seven small thatched houses scattered over the pasture slopes; built on a wooden framework, the typical house has an arched roof in the shape of a half barrel. The Toda traditionally trade dairy products, as well as cane and bamboo articles, with the other Nilgiri peoples, receiving Badaga grain and cloth and Kota tools and pottery in exchange. Kurumba jungle people play music for Toda funerals and supply various forest products.

Toda religion centres on the all-important buffalo. Ritual must be performed for almost every dairy activity, from milking and giving the herds salt to churning butter and shifting pastures seasonally. There are ceremonies for the ordination of dairymen-priests, for rebuilding dairies, and for rethatching funerary temples. These rites and the complex funeral rituals are the major occasions of social intercourse, when intricate poetic songs alluding to the buffalo cult are composed and chanted. Polyandry is fairly common; several men, usually brothers, may share one wife.

SubQuestion No : 21

Q.21 The passage appears to be a part of a/an \_\_\_\_\_.

- Ans  A. tourist guide  
 B. survey report  
 C. encyclopaedia entry  
 D. newspaper article

Question ID : 630680179189

Status : Not Answered

Chosen Option : --

**Comprehension:**

Read the given passage and answer the questions that follow.

The Toda is a pastoral tribe of the Nilgiri Hills of southern India. Numbering only about 800 in the early 1960s, they were rapidly increasing in population because of improved health facilities. The Toda language is Dravidian but is the most aberrant of that linguistic stock. The Toda live in settlements of from three to seven small thatched houses scattered over the pasture slopes; built on a wooden framework, the typical house has an arched roof in the shape of a half barrel. The Toda traditionally trade dairy products, as well as cane and bamboo articles, with the other Nilgiri peoples, receiving Badaga grain and cloth and Kota tools and pottery in exchange. Kurumba jungle people play music for Toda funerals and supply various forest products.

Toda religion centres on the all-important buffalo. Ritual must be performed for almost every dairy activity, from milking and giving the herds salt to churning butter and shifting pastures seasonally. There are ceremonies for the ordination of dairymen-priests, for rebuilding dairies, and for rethatching funerary temples. These rites and the complex funeral rituals are the major occasions of social intercourse, when intricate poetic songs alluding to the buffalo cult are composed and chanted. Polyandry is fairly common; several men, usually brothers, may share one wife.

**SubQuestion No : 22**

**Q.22 What is the most important ritual of the Todas?**

- Ans
- A. Trading with other tribes
  - B. Singing folk songs
  - C. The dairy activity
  - D. Constructing thatched houses

Question ID : 630680179186

Status : Not Answered

Chosen Option : --

**Comprehension:**

Read the given passage and answer the questions that follow.

The Toda is a pastoral tribe of the Nilgiri Hills of southern India. Numbering only about 800 in the early 1960s, they were rapidly increasing in population because of improved health facilities. The Toda language is Dravidian but is the most aberrant of that linguistic stock. The Toda live in settlements of from three to seven small thatched houses scattered over the pasture slopes; built on a wooden framework, the typical house has an arched roof in the shape of a half barrel. The Toda traditionally trade dairy products, as well as cane and bamboo articles, with the other Nilgiri peoples, receiving Badaga grain and cloth and Kota tools and pottery in exchange. Kurumba jungle people play music for Toda funerals and supply various forest products.

Toda religion centres on the all-important buffalo. Ritual must be performed for almost every dairy activity, from milking and giving the herds salt to churning butter and shifting pastures seasonally. There are ceremonies for the ordination of dairymen-priests, for rebuilding dairies, and for rethatching funerary temples. These rites and the complex funeral rituals are the major occasions of social intercourse, when intricate poetic songs alluding to the buffalo cult are composed and chanted. Polyandry is fairly common; several men, usually brothers, may share one wife.

**SubQuestion No : 23**

**Q.23 The most appropriate title for the passage is:**

- Ans
- A. The Dravidian Culture
  - B. The Tribal Community
  - C. Ancient Tribes of India
  - D. The Todas of the Nilgiris

Question ID : 630680179185

Status : Not Answered

Chosen Option : --

**Comprehension:**

Read the given passage and answer the questions that follow.

The Toda is a pastoral tribe of the Nilgiri Hills of southern India. Numbering only about 800 in the early 1960s, they were rapidly increasing in population because of improved health facilities. The Toda language is Dravidian but is the most aberrant of that linguistic stock. The Toda live in settlements of from three to seven small thatched houses scattered over the pasture slopes; built on a wooden framework, the typical house has an arched roof in the shape of a half barrel. The Toda traditionally trade dairy products, as well as cane and bamboo articles, with the other Nilgiri peoples, receiving Badaga grain and cloth and Kota tools and pottery in exchange. Kurumba jungle people play music for Toda funerals and supply various forest products.

Toda religion centres on the all-important buffalo. Ritual must be performed for almost every dairy activity, from milking and giving the herds salt to churning butter and shifting pastures seasonally. There are ceremonies for the ordination of dairymen-priests, for rebuilding dairies, and for rethatching funerary temples. These rites and the complex funeral rituals are the major occasions of social intercourse, when intricate poetic songs alluding to the buffalo cult are composed and chanted. Polyandry is fairly common; several men, usually brothers, may share one wife.

**SubQuestion No : 24**

**Q.24 Which of the following inferences does the passage NOT support?**

- Ans
- A. The barter system was clearly prevalent.
  - B. The buffalo plays an important in Toda villages.
  - C. The Todas continue to have poor health and longevity
  - D. Toda houses are made in the shape of half barrels

Question ID : 630680179187

Status : Not Answered

Chosen Option : --

**Comprehension:**

Read the given passage and answer the questions that follow.

The Toda is a pastoral tribe of the Nilgiri Hills of southern India. Numbering only about 800 in the early 1960s, they were rapidly increasing in population because of improved health facilities. The Toda language is Dravidian but is the most aberrant of that linguistic stock. The Toda live in settlements of from three to seven small thatched houses scattered over the pasture slopes; built on a wooden framework, the typical house has an arched roof in the shape of a half barrel. The Toda traditionally trade dairy products, as well as cane and bamboo articles, with the other Nilgiri peoples, receiving Badaga grain and cloth and Kota tools and pottery in exchange. Kurumba jungle people play music for Toda funerals and supply various forest products.

Toda religion centres on the all-important buffalo. Ritual must be performed for almost every dairy activity, from milking and giving the herds salt to churning butter and shifting pastures seasonally. There are ceremonies for the ordination of dairymen-priests, for rebuilding dairies, and for rethatching funerary temples. These rites and the complex funeral rituals are the major occasions of social intercourse, when intricate poetic songs alluding to the buffalo cult are composed and chanted. Polyandry is fairly common; several men, usually brothers, may share one wife.

**SubQuestion No : 25**

**Q.25 Which word can best replace the word 'aberrant' in the passage?**

- Ans
- A. Deviant
  - B. Weird
  - C. Abnormal
  - D. Exclusive

Question ID : 630680179188

Status : Not Answered

Chosen Option : --

Section : General Aptitude

Q.1 शिव सुब्रमण्यम के पास राष्ट्रीय खेल 2022 में बना 5.31 m का राष्ट्रीय रिकॉर्ड, निम्नलिखित में से किस खेल में है?

- Ans
- A. हाई जम्प
  - B. लॉन्ग जम्प
  - C. ट्रिपल जम्प
  - D. पोल वॉल्ट

Question ID : 630680179195  
Status : Answered  
Chosen Option : C

Q.2 निम्नलिखित में से किस आईआईटी (IIT) ने आई-घाट (i-Ghat) सुविधा विकसित और लॉन्च की है?

- Ans
- A. IIT मद्रास
  - B. IIT कानपुर
  - C. IIT दिल्ली
  - D. IIT रुड़की

Question ID : 630680179190  
Status : Not Answered  
Chosen Option : --

Q.3 निम्नलिखित में से कौन से अंतर्राष्ट्रीय हवाईअड्डे उन शहरों से सुमेलित हैं जिनमें वे स्थित हैं?

- I. भारत रत्न बाबासाहेब डॉ. बी.आर. अम्बेडकर अंतर्राष्ट्रीय हवाई अड्डा - पटना
- II. कोझिकोड हवाई अड्डा - बेंगलुरु
- III. लोकप्रिय गोपीनाथ बारदोलोई अंतर्राष्ट्रीय हवाई अड्डा - गुवाहाटी
- IV. गुरु राम दासजी अंतर्राष्ट्रीय हवाई अड्डा - अमृतसर

- Ans
- A. केवल II और IV
  - B. केवल I, II और III
  - C. केवल I, II और IV
  - D. केवल III और IV

Question ID : 630680179210  
Status : Answered  
Chosen Option : D

Q.4 निम्नलिखित में से कौन से विकल्प WAMSİ परियोजना के अंतर्गत आते हैं?

- I. वक्फ संपदाओं और उनकी वक्फ संपत्तियों का पंजीकरण
- II. लेआउट के लिए जीपीएस (GPS) निर्देशांक
- III. वार्षिक वक्फ संपत्ति रिटर्न
- IV. वक्फ बोर्डों को वार्षिक प्रशासनिक अंशदान
- V. स्वामित्व अधिकार दस्तावेज का मैनुअल संरक्षण

- Ans
- A. केवल II, III, IV और V
  - B. केवल I, II और III
  - C. केवल I, II, III और IV
  - D. केवल I, III और V

Question ID : 630680179193  
Status : Answered  
Chosen Option : D

Q.5 कर्नाटक संगीत के संबंध में निम्नलिखित में से कौन सा/से कथन सत्य है/हैं?

- I. स्वर से जुड़ा सूक्ष्म अलंकरण 'श्रुति' कहलाता है।
- II. नए रागों या धुनों को उत्पन्न करने की क्षमता वाले संगीत के पैमाने (musical scales) को 'मेल' कहा जाता है।
- III. तारता (pitches) का सबसे छोटा अंतराल जिसे प्रशिक्षित कान द्वारा पहचाना जा सकता है, 'गमक' कहलाता है।

- Ans
- A. केवल II
  - B. केवल I
  - C. केवल I और III
  - D. केवल III

Question ID : 630680179204

Status : Not Answered

Chosen Option : --

Q.6 निम्नलिखित कथनों में से कौन-सा कथन सही है?

- I. शाहजहाँ पाँचवाँ मुगल सम्राट था जिसने 1592 से 1666 तक शासन किया।
- II. शाहजहाँ के अधीन मुगल साम्राज्य का भू-राजस्व 20.75 मिलियन स्टर्लिंग था।
- III. अकबराबादी महल, कंधारी महल और अर्जुमंद बानो बेगम शाहजहाँ की पत्नियाँ थीं।

- Ans
- A. केवल I और II
  - B. केवल II और III
  - C. I, II और III
  - D. केवल I और III

Question ID : 630680179198

Status : Answered

Chosen Option : B

Q.7 31 दिसंबर 2022 तक प्राप्त जानकारी के अनुसार, विश्वभूषण हरिचंदन \_\_\_\_\_ के राज्यपाल हैं।

- Ans
- A. तेलंगाना
  - B. कर्नाटक
  - C. अरुणाचल प्रदेश
  - D. आंध्र प्रदेश

Question ID : 630680179214

Status : Answered

Chosen Option : C

Q.8 2011 की जनगणना के अनुसार किस राज्य की प्रजनन दर सर्वाधिक है?

- Ans
- A. पश्चिम बंगाल
  - B. महाराष्ट्र
  - C. बिहार
  - D. उत्तर प्रदेश

Question ID : 630680179209

Status : Answered

Chosen Option : C

Q.9 सैय्यद वंश दिल्ली सल्तनत का \_\_\_\_\_ राजवंश था।

- Ans
- A. दूसरा
  - B. तीसरा
  - C. चौथा
  - D. पहला

Question ID : 630680179197  
Status : Answered  
Chosen Option : A

Q.10 वैश्विक भुखमरी सूचकांक (GHI) 2022, स्कोर का परिकलन करने के लिए पर्याप्त डेटा वाले 121 देशों में से वैश्विक भुखमरी सूचकांक, 2022 में भारत का स्थान क्या है?

- Ans
- A. 110<sup>वाँ</sup>
  - B. 113<sup>वाँ</sup>
  - C. 100<sup>वाँ</sup>
  - D. 107<sup>वाँ</sup>

Question ID : 630680179192  
Status : Answered  
Chosen Option : D

Q.11 निम्नलिखित में से कौन से एयर स्पोर्ट NASP 2022 के अंतर्गत आते हैं?

- I. बैलूनिंग और ड्रोन
- II. पैराशूटिंग (स्काइडाइविंग, बेस1 जंपिंग और विंगसूट आदि सहित)
- III. पैराग्लाइडिंग और पैरामोटिंग (पॉवर्ड पैराशूट ट्राइक आदि सहित)
- IV. पॉवर्ड एयरक्राफ्ट (अल्ट्रालाइट, माइक्रोलाइट और लाइट सपोर्ट एयरक्राफ्ट सहित)

- Ans
- A. केवल I और II
  - B. I, II, III और IV
  - C. केवल II और III
  - D. केवल II, III और IV

Question ID : 630680179196  
Status : Not Answered  
Chosen Option : --

Q.12 मार्च 1929 में मोहम्मद अली जिन्ना द्वारा कितने सूत्र दिए गए/मांगे की गई, जो मुस्लिम लीग के भविष्य के सभी अधिप्रचारों का आधार बने?

- Ans
- A. 20
  - B. 11
  - C. 7
  - D. 14

Question ID : 630680179199  
Status : Answered  
Chosen Option : B



Q.13 कोशिकाद्रव्य में उपस्थित सूक्ष्मनलिकाएं, सूक्ष्मतंतु और मध्यवर्ती तंतु से युक्त तंतुल प्रोटीनी संरचनाओं का एक विस्तृत नेटवर्क सामूहिक रूप से \_\_\_\_\_ के रूप में जाना जाता है।

- Ans
- A. अंतर्द्रव्यी जालिका
  - B. राइबोसोम
  - C. कोशिकापंजर
  - D. गॉल्जी काय

Question ID : 630680179211  
Status : Answered  
Chosen Option : B

Q.14 भारत के किस राज्य में भगवान मुरुगन का आशीर्वाद प्राप्त करने के लिए, उनको समर्पित मंदिरों में मोर पंख पहने नर्तकों द्वारा मयिलाट्टम का प्रदर्शन किया जाता है?

- Ans
- A. ओडिशा
  - B. कर्नाटक
  - C. तमिलनाडु
  - D. महाराष्ट्र

Question ID : 630680179202  
Status : Marked For Review  
Chosen Option : C

Q.15 किसी भुगतान को भविष्य की किसी तिथि तक स्थगित करने के लिए किस शब्द का प्रयोग किया जाता है?

- Ans
- A. राजगामी भुगतान (Escheat Payment)
  - B. आस्थगित भुगतान (Deferred Payment)
  - C. गबन भुगतान (Embezzle Payment)
  - D. अपमानजनक भुगतान (Derogatory Payment)

Question ID : 630680179205  
Status : Answered  
Chosen Option : B

Q.16 खेल विभाग के अंतर्गत 1982 में नई दिल्ली में आयोजित IXवें एशियाई खेलों की विरासत को आगे बढ़ाने के लिए भारतीय खेल प्राधिकरण (SAI) की स्थापना किस वर्ष की गई थी?

- Ans
- A. 1985
  - B. 1983
  - C. 1982
  - D. 1984

Question ID : 630680179194  
Status : Not Answered  
Chosen Option : --



Q.17 दो-दूल चोर्टेन स्तूप कहाँ स्थित है?

- Ans  A. बिहार  
 B. मणिपुर  
 C. आंध्र प्रदेश  
 D. सिक्किम

Question ID : 630680179201  
Status : Answered  
Chosen Option : D

Q.18 निम्नलिखित में से कौन सा/से कथन गलत है/हैं?

- I. सतलुज और काली नदियों के बीच स्थित हिमालय के भाग को कुमाजुं हिमालय के नाम से जाना जाता है।  
II. तीस्ता और दिहांग नदियों के बीच स्थित भाग असम हिमालय के नाम से जाना जाता है।  
III. सिंधु और सतलुज के बीच स्थित हिमालय के भाग को नेपाल हिमालय के नाम से जाना जाता है।

- Ans  A. केवल I और II  
 B. केवल I  
 C. केवल III  
 D. केवल II और III

Question ID : 630680179208  
Status : Answered  
Chosen Option : C

Q.19 भारत के संविधान की निम्नलिखित में से कौन सी विशेषता कनाडा के संविधान से नहीं ली गई है?

- Ans  A. केंद्र में अवशिष्ट शक्तियों का निहित होना  
 B. सर्वोच्च न्यायालय की सलाहकारी अधिकारिता  
 C. उद्देशिका में प्रयुक्त भाषा  
 D. केंद्र द्वारा राज्य के राज्यपालों की नियुक्ति

Question ID : 630680179213  
Status : Answered  
Chosen Option : C

Q.20 सोने (ऑरम) की परमाणु संख्या \_\_\_\_\_ है।

- Ans  A. 54  
 B. 79  
 C. 69  
 D. 47

Question ID : 630680179212  
Status : Answered  
Chosen Option : D

Q.21 'जिंदुआ (Jindua)' \_\_\_\_\_ का लोकगीत है।

- Ans  A. हरियाणा  
 B. उत्तरांचल  
 C. पश्चिम बंगाल  
 D. पंजाब

Question ID : 630680179203

Status : Not Answered

Chosen Option : --

Q.22 निम्नलिखित में से कौन से कथन सही हैं?

- I. गरीबी उन्मूलन के लिए पहला अंतर्राष्ट्रीय दिवस 17 अक्टूबर 1993 को मनाया गया था।  
II. भारत में, 2005 में स्थापित और अर्थशास्त्री सुरेश डी तेंदुलकर की अध्यक्षता वाली तेंदुलकर समिति को गरीबी का प्राक्कलन करने के लिए नियुक्त किया गया था।  
III. संयुक्त राष्ट्र महासभा (UNGA) ने 17 अक्टूबर को गरीबी उन्मूलन के लिए अंतर्राष्ट्रीय दिवस के रूप में घोषित किया और 22 दिसंबर 1992 को एक प्रस्ताव अपनाया।  
IV. गरीबी उन्मूलन के लिए 2020 के अंतर्राष्ट्रीय दिवस का विषय 'व्यवहार में सभी के लिए गरिमा: सामाजिक न्याय, शांति और ग्रह के लिए हम मिलकर प्रतिज्ञा करते हैं (Dignity For All in Practice: The commitments we make together for social justice, peace, and the planet)।'

- Ans  A. केवल I और IV  
 B. केवल I, III और IV  
 C. केवल II और III  
 D. केवल I और III

Question ID : 630680179206

Status : Not Answered

Chosen Option : --

Q.23 निम्नलिखित में से कौन से युग्म सुमेलित हैं?

- I. चंपारण सत्याग्रह (1917) - प्रथम सविनय अवज्ञा  
II. अहमदाबाद मिल हड़ताल (1918) - प्रथम भूख हड़ताल  
III. खेड़ा सत्याग्रह (1919) - प्रथम असहयोग आंदोलन

- Ans  A. केवल I और III  
 B. I, II और III  
 C. केवल II और III  
 D. केवल I और II

Question ID : 630680179200

Status : Answered

Chosen Option : D

Q.24 भारत का पहला क्यूसिम टूलकिट (QSim toolkit) अगस्त 2021 में निम्नलिखित में से किस संस्थान द्वारा विकसित किया गया था?

- Ans  A. प्रगत संगणन विकास केन्द्र (C-DAC), भारतीय विज्ञान संस्थान (IISc) बैंगलोर और भारतीय प्रौद्योगिकी संस्थान (IIT) कानपुर
- B. भारतीय प्रौद्योगिकी संस्थान (IIT) रुड़की, CSIR-केंद्रीय भवन अनुसंधान संस्थान (CBRI) और प्रगत संगणन विकास केन्द्र (C-DAC)
- C. CSIR-केंद्रीय भवन अनुसंधान संस्थान (CBRI), भारतीय विज्ञान संस्थान (IISc) बैंगलोर और भारतीय प्रौद्योगिकी संस्थान (IIT) गुवाहाटी
- D. भारतीय विज्ञान संस्थान (IISc) बैंगलोर, भारतीय प्रौद्योगिकी संस्थान (IIT) रुड़की और प्रगत संगणन विकास केन्द्र (C-DAC)

Question ID : 630680179191

Status : Not Answered

Chosen Option : --

Q.25 निम्नलिखित में से कौन सा राज्य 2021-22 में बॉक्साइट के 76.3% के योगदान के साथ बॉक्साइट का अग्रणी उत्पादक है?

- Ans  A. गुजरात
- B. छत्तीसगढ़
- C. झारखंड
- D. ओडिशा

Question ID : 630680179207

Status : Answered

Chosen Option : B

Section : General Intelligence

Q.1 चार शब्द-संख्या युग्म दिए गए हैं, जिनमें से तीन किसी प्रकार से एक समान हैं और एक असंगत है। उसका चयन करें जो असंगत है।

- Ans  A. VICTORIA : 5-9-24-20-12-18-18-1
- B. FRANKLIN : 21-18-26-14-16-12-18-14
- C. INTRANET : 18-14-7-18-26-14-22-20
- D. TAXPAYER : 20-26-24-11-1-2-5-9

Question ID : 630680179233

Status : Answered

Chosen Option : D

Q.2 नीचे दिए गए प्रत्येक अक्षर को एक अद्वितीय संख्या दी गई है। संख्याओं के संयोजन का चयन इस प्रकार करें कि संबंधित अक्षरों को व्यवस्थित करने पर एक अर्थपूर्ण शब्द बने।

T	A	E	B	L	H	A	P
1	2	3	4	5	6	7	8

- Ans
- A. 5-8-6-7-4-3-1-2
  - B. 2-5-8-6-7-4-3-1
  - C. 7-4-3-1-5-2-8-6
  - D. 7-4-3-1-2-5-8-6

Question ID : 630680179221

Status : Answered

Chosen Option : B

Q.3 गणितीय चिह्नों के उस सही संयोजन का चयन करें जो क्रमिक रूप से \* चिह्नों को प्रतिस्थापित कर सकता है और दिए गए समीकरण को संतुलित कर सकता है।

$$69 * 19 * 23 * 33 * 78 * 12$$

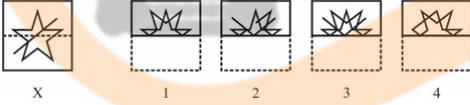
- Ans
- A. -, ÷, =, +, ×
  - B. ÷, +, =, ×, -
  - C. +, ÷, ×, -, =
  - D. ×, ÷, +, -, =

Question ID : 630680179239

Status : Answered

Chosen Option : D

Q.4 उस विकल्प का चयन करें जो दर्शाता है कि दी गई पारदर्शी कागज की शीट को बिंदुदार रेखा पर मोड़ने पर वह कैसा दिखाई देगा।



- Ans
- A. 3
  - B. 1
  - C. 2
  - D. 4

Question ID : 630680179236

Status : Answered

Chosen Option : A

Q.5 दिए गए शब्द "CRICKET" में अक्षरों के ऐसे कितने युग्म हैं जिनके बीच उतने ही अक्षर हैं जितने कि मानक अंग्रेजी वर्णमाला श्रृंखला में हैं? (आगे और पीछे दोनों दिशाओं में गिनने पर विचार करें)

- Ans
- A. 3
  - B. 1
  - C. 4
  - D. 2

Question ID : 630680179220

Status : Answered

Chosen Option : D

Q.6 सात खिलाड़ी P, Q, R, S, T, U और V एक सीधी रेखा में उत्तर की ओर अभिमुख होकर बैठे हैं। R और P के बीच केवल Q बैठा है। T, R के ठीक दाएं बैठा है। केवल एक खिलाड़ी T के दाएं बैठा है। P और V के बीच केवल S बैठा है। दाएं सिरे पर कौन बैठा है?

- Ans
- A. R
  - B. U
  - C. V
  - D. T

Question ID : 630680179215  
Status : Answered  
Chosen Option : B

Q.7 दिए गए विकल्पों में से उस संख्या का चयन करें जो निम्नलिखित श्रृंखला में प्रश्नवाचक चिह्न (?) को प्रतिस्थापित कर सकती है।

23, 46, 138, 552, ?

- Ans
- A. 2670
  - B. 2370
  - C. 2076
  - D. 2760

Question ID : 630680179237  
Status : Answered  
Chosen Option : D

Q.8 एक निश्चित कूट भाषा में, "VACCINATE" को "OBUFJWBDD" के रूप में कूटबद्ध किया गया है। उसी भाषा में "VACATIONS" को किस रूप में कूटबद्ध किया जाएगा?

- Ans
- A. JPOTUWBDB
  - B. JPQTUWBDD
  - C. JPTOUXBDD
  - D. JQOTUBWDB

Question ID : 630680179225  
Status : Answered  
Chosen Option : A

Q.9 सुबह सूर्योदय के बाद, अर्जेंटीना के फुटबॉल कोच मेसी के साथ मैदान में ऐसी स्थिति में खड़े होकर अगले मैच के लिए रणनीति पर चर्चा करते हैं कि कोच की छाया मेसी के ठीक सामने पड़ती है। मेसी किस दिशा की ओर अभिमुख है?

- Ans
- A. उत्तर
  - B. पश्चिम
  - C. पूर्व
  - D. दक्षिण

Question ID : 630680179226  
Status : Answered  
Chosen Option : B

Q.10 चार अक्षर-समूह युग्म दिए गए हैं, जिनमें से तीन किसी प्रकार से एक समान हैं और एक असंगत है। उसका चयन करें जो असंगत है।

- Ans  A. WRONG : YPQLI  
 B. METAL : OCVYN  
 C. ENEMY : CPCOW  
 D. REUSE : TCWQG

Question ID : 630680179230  
Status : Answered  
Chosen Option : C

Q.11 निम्नलिखित क्रम में ऐसी कितनी सम संख्याएं हैं जिनके बाद में और पहले विषम संख्याएं हैं? (केवल बाएं से दाएं गिनने पर विचार करें)

(बाएं) 9 4 3 2 6 5 3 7 8 3 2 3 6 7 5 3 2 7 9 5 4 6 6 7 3 2 3 3 1 5 6 2 4 5 3 5 7 8 4 5 (दाएं)

- Ans  A. 6  
 B. 7  
 C. 8  
 D. 5

Question ID : 630680179223  
Status : Answered  
Chosen Option : C

Q.12 चार अक्षर-समूह युग्म दिए गए हैं, जिनमें से तीन किसी प्रकार से एक समान हैं और एक असंगत है। उसका चयन करें जो असंगत है।

- Ans  A. LOCATE : VGZXLO  
 B. VOWELS : LEVDHO  
 C. REMOTE : VILNVG  
 D. LENGTH : VOTMSG

Question ID : 630680179231  
Status : Not Answered  
Chosen Option : --

Q.13 चार अक्षर-समूह युग्म दिए गए हैं, जिनमें से तीन किसी प्रकार से एक समान हैं और एक असंगत है। उसका चयन करें जो असंगत है।

- Ans  A. TAXPAYER : CVRZACTG  
 B. VICTORIA : KXVETQCK  
 C. GRAPHICS : SHQBJITD  
 D. INTRANET : PKTVPCVG

Question ID : 630680179232  
Status : Answered  
Chosen Option : C

Q.14 छह व्यक्ति A, B, C, D, E और F एक गोल मेज के परितः समान दूरी पर बैठे हैं और मेज़ के केंद्र की ओर अभिमुख हैं। D, B के सामने बैठा है। केवल C, F और D के बीच में बैठा है। A, F के दाएं से दूसरे स्थान पर बैठा है। C के दाएं से तीसरे स्थान पर कौन बैठा है?

- Ans
- A. B
  - B. F
  - C. E
  - D. A

Question ID : 630680179216

Status : Answered

Chosen Option : D

Q.15 उस विकल्प का चयन करें जिसमें शब्द-युग्म उस संबंध को साझा करता है जो शब्दों के दिए गए युग्मों द्वारा साझा किया गया है।

METAL : OCVYN

- Ans
- A. REUSE : TCWQG
  - B. WRONG : UTMPE
  - C. RIGHT : VFIGT
  - D. ENEMY : GPGOA

Question ID : 630680179229

Status : Answered

Chosen Option : A

Q.16 नीचे दी गई जानकारी को ध्यान से पढ़ें।

- विजय मनोहर से बड़ा है लेकिन राजू जितना बड़ा नहीं है।
- जयंत, दत्ता से बड़ा है लेकिन मनोहर से छोटा है।
- राकेश, विजय से बड़ा है लेकिन सबसे बड़ा नहीं है।

समूह में सबसे बड़ा कौन है?

- Ans
- A. राजू
  - B. दत्ता
  - C. विजय
  - D. राकेश

Question ID : 630680179218

Status : Answered

Chosen Option : A

Q.17 यदि 'A + B' का अर्थ है कि 'A, B की बहन है', 'A × B' का अर्थ है कि 'A, B की पत्नी है', 'A % B' का अर्थ है कि 'A, B के पिता हैं', 'A - B' का अर्थ है कि 'A, B का भाई है।

व्यंजक "P × Q % R - T + S" में T, Q से किस प्रकार संबंधित है?

- Ans
- A. Q की पत्नी के पिता
  - B. Q की पत्नी की पुत्री
  - C. Q की पत्नी का पुत्र
  - D. Q की पत्नी का भाई

Question ID : 630680179228

Status : Not Answered

Chosen Option : --

Q.18 एक निश्चित कूट भाषा में, 'ICEBOAT' को 'GZLYVXR' के रूप में लिखा जाता है। उसी भाषा में 'HABITAT' को किस रूप में लिखा जाएगा?

- Ans
- A. GZGRYZS
  - B. GZGRYSZ
  - C. GZRGYZS
  - D. GZGYRZS

Question ID : 630680179224

Status : Answered

Chosen Option : A

Q.19 निम्नलिखित क्रम के ठीक मध्य में कौन सी संख्या है?

(बाएं) 2 4 5 3 5 7 8 9 4 3 2 6 5 3 7 8 4 5 3 2 3 6 7 5 3 2 7 9 5 4 6 (दाएं)

- Ans
- A. 4
  - B. 8
  - C. 7
  - D. 6

INDIA

Question ID : 630680179222

Status : Answered

Chosen Option : B

Q.20 दिए गए विकल्पों में से उस अक्षर-समूह का चयन करें जो निम्नलिखित श्रृंखला में प्रश्नवाचक चिह्न (?) को प्रतिस्थापित कर सकता है।

ADVENT, ZDVENU, ZCVEOU, ?

- Ans
- A. ZCUFOU
  - B. ZCWDOU
  - C. ZCUDOU
  - D. ZCWFOU

Question ID : 630680179219

Status : Not Answered

Chosen Option : --



Q.21 नीचे दी गई आकृति का दर्पण प्रतिबिम्ब क्या होगा?



Ans

✓ A.



✗ B.



✗ C.



✗ D.



INDIA

Chosen Option : A

Q.22 देव मयंक के पिता हैं। अनुराधा, अनु की बहन है। चंद्रा मयंक की मां है। गोविंद अनु और मयंक का भाई है। अनुराधा देव से किस रूप में संबंधित है?

- Ans
- A. मां
  - B. पिता
  - C. बहन
  - D. पुत्री

Question ID : 630680179227

Status : Answered

Chosen Option : D

Q.23 100 विद्यार्थियों की एक कक्षा में, लड़कों की संख्या लड़कियों की संख्या की तीन गुना है। नीलांजन नाम के लड़के की रैंक नीचे से 56वीं है। यदि शीर्ष से 15 लड़कियां नीलांजन की रैंक से पीछे हैं, तो कितने लड़कों ने नीलांजन से बेहतर रैंक प्राप्त की है?

- Ans
- A. 37
  - B. 34
  - C. 36
  - D. 35

Question ID : 630680179217

Status : Not Answered

Chosen Option : --

Q.24 दिए गए विकल्पों में से उस संख्या का चयन करें जो निम्नलिखित श्रृंखला में प्रश्नवाचक चिह्न (?) को प्रतिस्थापित कर सकती है।

300, 270, 235, 195, 150, ?

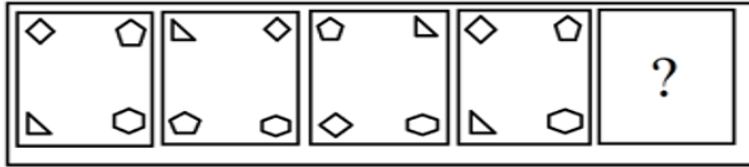
- Ans
- A. 105
  - B. 95
  - C. 100
  - D. 110

Question ID : 630680179238

Status : Answered

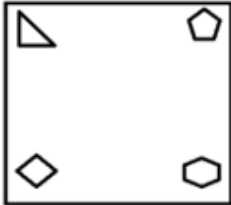
Chosen Option : C

Q.25 दिए गए विकल्पों में से उस आकृति का चयन करें जो नीचे दी गई श्रृंखला में प्रश्नवाचक चिह्न (?) को प्रतिस्थापित कर सकती है।



Ans

✗ A.



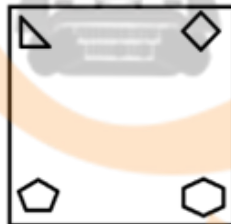
✗ B.



✗ C.



✓ D.



Question ID : 630680179234

Status : Answered

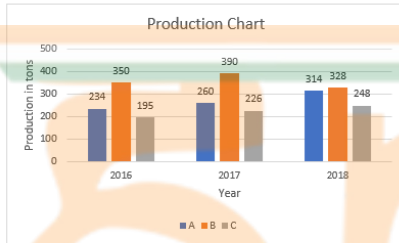
Chosen Option : D

Q.1 एक वस्तु का मूल्य 6% कम करने पर मूल्य ₹ 1,551 हो जाता है, यदि मूल मूल्य में 5% की वृद्धि कर दी जाए तो मूल्य (₹ में) क्या होगा?

- Ans
- A. 1,728.80
  - B. 1,769.50
  - C. 1,732.50
  - D. 1,752.40

Question ID : 630680179248  
Status : Answered  
Chosen Option : C

Q.2 निम्नलिखित दंड आलेख वर्ष 2016-2018 के लिए तीन कंपनियों A, B और C का उत्पादन विवरण दर्शाता है। 2018 में A के उत्पादन और 2017 में B के उत्पादन का योग, 2018 में C के उत्पादन और 2016 में A के योग का कितने प्रतिशत है? (निकटतम पूर्णांक तक)



Production in tons : उत्पादन टनों में  
Year : वर्ष

- Ans
- A. 132
  - B. 138
  - C. 125
  - D. 146

Question ID : 630680179260  
Status : Answered  
Chosen Option : D

Q.3 चैपलिन एक निश्चित दूरी 1 h 24 min में तय करता है। यदि वह दो-तिहाई दूरी 4 km/h की चाल से और शेष दूरी 5 km/h की चाल से तय करता है, तो उसकी औसत चाल ज्ञात कीजिए।

- Ans
- A.  $4\frac{2}{7}$
  - B.  $4\frac{1}{6}$
  - C.  $5\frac{3}{4}$
  - D.  $5\frac{1}{3}$

Question ID : 630680179246  
Status : Answered  
Chosen Option : A

Q.4 साधारण ब्याज की 5% वार्षिक दर पर 4 वर्षों में देय ₹ 3,225 का ऋण चुकाने के लिए वार्षिक भुगतान (₹ में) ज्ञात कीजिए।

- Ans  A. 750  
 B. 825  
 C. 950  
 D. 875

Question ID : 630680179254  
Status : Answered  
Chosen Option : D

Q.5 केशव और माधव मिलकर एक परियोजना को 35 दिनों में पूरा करने का निर्णय लेते हैं जबकि केशव अकेले परियोजना को 84 दिनों में पूरा कर सकता है। किंतु स्थान की अनुपलब्धता के कारण, वे बारी-बारी से कार्य करने का निर्णय लेते हैं। केशव ने पहले दिन कार्य किया और माधव ने दूसरे और तीसरे दिन कार्य किया और कार्य आगे भी इसी क्रम में जारी रहता है। वे इस परियोजना को कितने दिनों में पूरा करेंगे?

- Ans  A.  $70\frac{25}{42}$   
 B.  $62\frac{11}{21}$   
 C.  $68\frac{15}{28}$   
 D.  $64\frac{6}{35}$

Question ID : 630680179258  
Status : Answered  
Chosen Option : D

Q.6 100 m ऊँचे एक प्रकाश स्तंभ के शीर्ष से, इसकी विपरीत दिशाओं (opposite sides) में दो जलयानों के अवनमन कोण क्रमशः  $30^\circ$  और  $45^\circ$  हैं। दोनों जलयानों के बीच की दूरी निकटतम m में ज्ञात कीजिए।

- Ans  A. 273  
 B. 142  
 C. 186  
 D. 227

Question ID : 630680179264  
Status : Answered  
Chosen Option : A

Q.7  $5\frac{5}{12}$  और  $2\frac{2}{3}$  के योग को उनके अंतर से विभाजित कीजिए।

Ans

A.  $1\frac{10}{11}$

B.  $1\frac{9}{16}$

C.  $2\frac{13}{30}$

D.  $2\frac{31}{33}$

Question ID : 630680179242

Status : Answered

Chosen Option : D

Q.8 सोमवार और शुक्रवार के बीच एक विशेष सप्ताह का औसत तापमान  $30.2^{\circ}\text{C}$  अंकित किया जाता है और मंगलवार से शुक्रवार तक औसत तापमान  $30^{\circ}\text{C}$  अंकित किया जाता है, और सोमवार का तापमान शुक्रवार के तापमान से 2 अधिक है। शुक्रवार का तापमान ज्ञात कीजिए।

Ans

A.  $31^{\circ}\text{C}$

B.  $29^{\circ}\text{C}$

C.  $32^{\circ}\text{C}$

D.  $30^{\circ}\text{C}$

Question ID : 630680179245

Status : Answered

Chosen Option : B

Q.9 ₹ 24,000 पर 12% प्रति वर्ष की दर से  $1\frac{1}{2}$  वर्ष का चक्रवृद्धि ब्याज, जो अर्ध-वार्षिक रूप से चक्रवृद्धित होता है, (₹ में) ज्ञात कीजिए। (दो दशमलव स्थानों तक पूर्णांकित)

Ans

A. 4,560

B. 4,320

C. 7,440

D. 7,250

Question ID : 630680179255

Status : Answered

Chosen Option : B

Q.10 दो ट्रेनें, एक लखनऊ से कोलकाता के लिए और दूसरी कोलकाता से लखनऊ के लिए एक ही रूट पर एक साथ चलना आरंभ करती हैं। एक दूसरे को पार करने के बाद ट्रेनें क्रमशः 8 hrs और 10 hrs के बाद अपने गंतव्य पर पहुंचती हैं। यदि धीमी ट्रेन की चाल 180 km/h है, तो तेज़ ट्रेन की चाल (km/h में) क्या होगी? (दो दशमलव स्थानों तक पूर्णांकित)

- Ans
- A. 199.45
  - B. 197.10
  - C. 201.60
  - D. 195.24

Question ID : 630680179256

Status : Answered

Chosen Option : C

Q.11 एक चुनाव में चार उम्मीदवार थे और 95% मतदाताओं ने मतदान किया। एक उम्मीदवार को 25% मत प्राप्त हुए, जबकि अन्य तीन ने शेष मतों को 6 : 7 : 2 के अनुपात में साझा किया। तीसरे स्थान पर रहे उम्मीदवार और चौथे स्थान पर रहे उम्मीदवार द्वारा प्राप्त मतों का अंतर 69198 के बराबर है। विजयी प्रत्याशी द्वारा प्राप्त मत ज्ञात कीजिए।

- Ans
- A. 161462
  - B. 138396
  - C. 156458
  - D. 115330

Question ID : 630680179250

Status : Answered

Chosen Option : A

Q.12 एक अर्द्धगोलीय कटोरा रस से लबालब भरा जाता है। कटोरे की सामग्री को एक बेलनाकार बर्तन में स्थानांतरित किया जाता है जिसकी त्रिज्या इसकी ऊंचाई से 25% अधिक है। यदि कटोरे और बेलन दोनों का व्यास समान है, तो बेलनाकार बर्तन के आयतन और अर्द्धगोलीय कटोरा के आयतन का अनुपात ज्ञात कीजिए।

- Ans
- A. 2 : 5
  - B. 6 : 5
  - C. 1 : 3
  - D. 4 : 1

Question ID : 630680179263

Status : Answered

Chosen Option : D

Q.13 कविता और विनीता किसी कार्य को क्रमशः 25 दिनों और 20 दिनों में पूरा कर सकती हैं, सरिता की सहायता से वे कार्य को  $6\frac{18}{47}$  दिनों में पूरा करती हैं। कविता और सरिता को कार्य पूरा करने में कितने दिन लगेंगे?

Ans

A.  $8\frac{4}{5}$

B.  $10\frac{1}{2}$

C.  $9\frac{3}{8}$

D.  $11\frac{2}{7}$

Question ID : 630680179257

Status : Answered

Chosen Option : C

Q.14 405, 648 और 486 के HCF द्वारा विभाजित LCM ज्ञात कीजिए।

Ans

A. 180

B. 240

C. 270

D. 120

Question ID : 630680179243

Status : Answered

Chosen Option : C

Q.15 24698014, निम्नलिखित में से किस संख्या से पूर्णतः विभाज्य है?

Ans

A. 7

B. 9

C. 8

D. 11

Question ID : 630680179241

Status : Answered

Chosen Option : D

Q.16 एक कंटेनर में 40 लिटर सांद्र सिरप है। इसमें से 4 लिटर सिरप निकाल लिया गया और जल से प्रतिस्थापित कर दिया गया, और यही प्रक्रिया तीन बार की गई। अंत में कंटेनर में विलयन का कितने प्रतिशत सिरप होगा?

Ans

A. 63.72%

B. 67.23%

C. 64.15%

D. 65.61%

Question ID : 630680179247

Status : Answered

Chosen Option : B



Q.17  $x$  का मान ज्ञात कीजिए।

$$2^{x+1} = 8^{2x-3}$$

- Ans  A. 2  
 B. 3  
 C. 1  
 D. 4

Question ID : 630680179240  
Status : Answered  
Chosen Option : B

Q.18 चार व्यक्तियों A, B, C और D के बीच ₹580 हैं। A के पास C से दो गुना है और B के पास D से तीन गुना है। C और D के पास मिलाकर A से ₹100 कम है। ज्ञात कीजिए कि A के पास कितनी राशि (₹ में) है?

- Ans  A. 240  
 B. 150  
 C. 100  
 D. 280

Question ID : 630680179261  
Status : Answered  
Chosen Option : D

Q.19 एक पिता की आयु उसके पुत्र की आयु की तीन गुना है। तीन वर्ष पूर्व पिता की आयु उसके पुत्र की आयु के चार गुने से तीन कम थी। पिता और पुत्र की वर्तमान आयु का औसत (वर्षों में) ज्ञात कीजिए।

- Ans  A. 24  
 B. 23  
 C. 26  
 D. 25

Question ID : 630680179244  
Status : Answered  
Chosen Option : A

Q.20 15 cm की ऊंचाई और 7 cm की आधार त्रिज्या वाले एक सिलेंडर के बीच में से एक ऊर्ध्वाधर अनुप्रस्थ काट काटा जाता है। अनुप्रस्थ काट का क्षेत्रफल  $\text{cm}^2$  में ज्ञात कीजिए।

- Ans  A. 210  
 B. 142  
 C. 154  
 D. 186

Question ID : 630680179262  
Status : Answered  
Chosen Option : C

Q.21 पाइप A एक टंकी को 12 hrs में भर सकता है और पाइप B इसे भरने में 18 hrs लेता है। दोनों पाइपों को एक साथ खोला गया और एक रिसाव देखा गया जिसके कारण टंकी भरने का समय 48 min बढ़ गया। ज्ञात कीजिए कि एक भरी हुई टंकी को रिसाव द्वारा खाली करने में कितने घंटे लगेंगे।

Ans  A. 60

B. 72

C. 68

D. 64

Question ID : 630680179259

Status : Answered

Chosen Option : B

Q.22 भूमि पर तापमान 30 °C है। भूमि से 3000 m ऊपर तापमान 12 °C है। ज्ञात कीजिए कि भूमि के ऊपर प्रत्येक 100 m पर तापमान कितना घटेगा?

Ans

A.  $\frac{1}{3}$

B.  $\frac{2}{5}$

C.  $\frac{1}{2}$

D.  $\frac{3}{5}$

Question ID : 630680179253

Status : Answered

Chosen Option : D

Q.23 दो डाकिए 20 min में 50 पार्सल वितरित करते हैं। अभी 1500 और पार्सल वितरित करने हैं। यदि इन्हें 2 hrs में वितरित करना है, तो कितने और लोगों को नियोजित करना होगा?

Ans  A. 5

B. 8

C. 10

D. 7

Question ID : 630680179252

Status : Not Answered

Chosen Option : --

Q.24 0.36% को अनुपात के रूप में व्यक्त कीजिए।

Ans  A. 9 : 25

B. 9 : 250

C. 9 : 2.5

D. 9 : 2500

Question ID : 630680179249

Status : Not Answered

Chosen Option : --

Q.25 एक दुकानदार दोषपूर्ण बाट का प्रयोग करके खरीदते समय 5% और बेचते समय 10% तक की धोखाधड़ी करता है। उसका वास्तविक लाभ प्रतिशत क्या है? (निकटतम पूर्णांक तक पूर्णांकित)

- Ans
- A. 15
  - B. 14
  - C. 12
  - D. 17

Question ID : 630680179251

Status : Not Answered

Chosen Option : --

